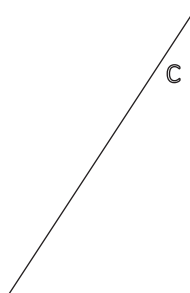


DEBUXO TÉCNICO

1.- Dibuje una circunferencia de radio 35mm, dada su cuerda C

1.- Debuxe unha circunferencia de radio 35mm, dada a súa corda C

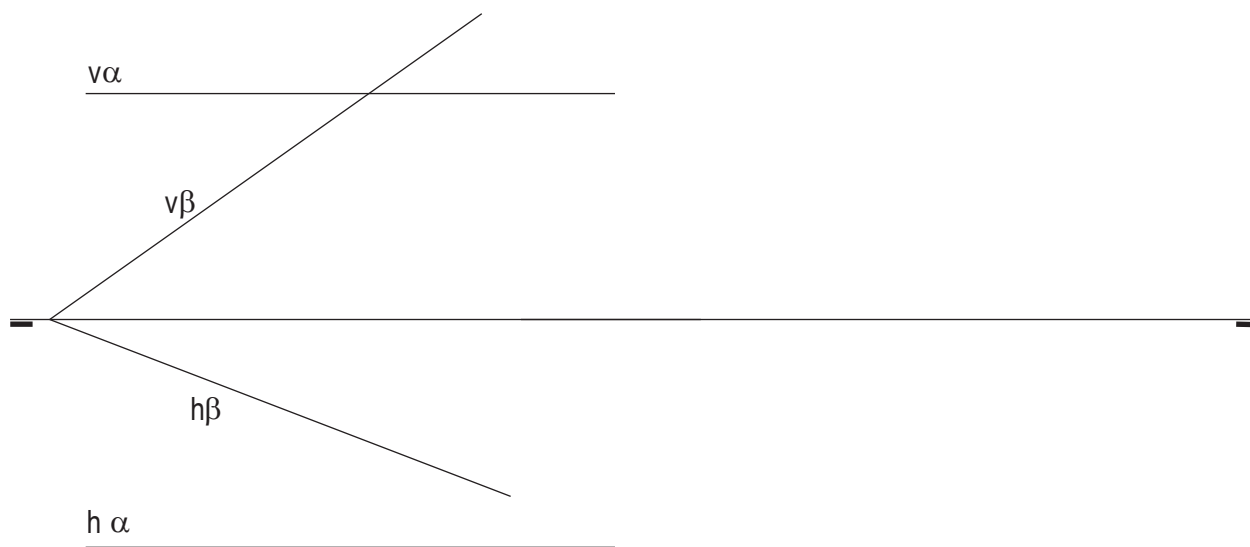
CALIFICACIÓN: 3 PUNTOS

 P
E
G
A
T
I
N
A


2.- Dibuje la intersección de los planos: α paralelo a la línea de tierra y el plano β oblicuo.

2.- Debuxe a intersección dos planos: α paralelo á liña de terra e o plano β oblicuo.

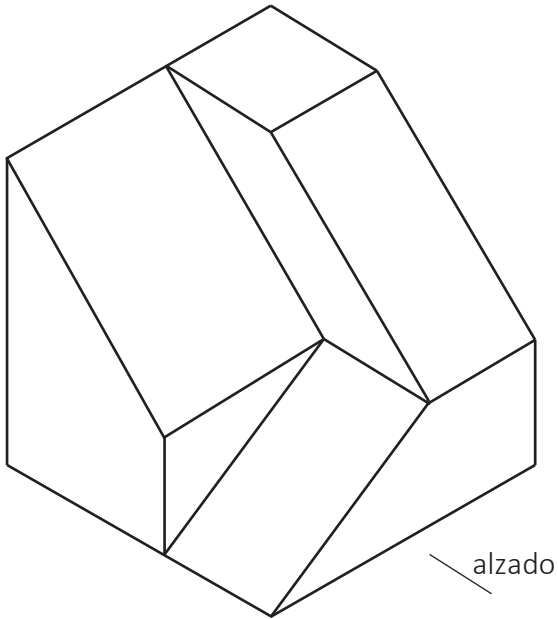
CALIFICACIÓN: 3 PUNTOS



3.- Dibuje la planta y dos alzados de la figura a escala E 1/1.

3.- Debuxe a planta e dous alzados da figura a escala E 1/1.

CALIFICACIÓN: 3 PUNTOS



4.- Responda verdadero o falso:

- Un triángulo isósceles tiene todos sus ángulos iguales
- El cilindro es una superficie reglada

4.- Responda verdadeiro ou falso:

- Un triángulo isósceles ten todos os seus ángulos iguais
- O cilindro é unha superficie regrada

CALIFICACIÓN: 1 PUNTO

DEBUXO TÉCNICO

CRITERIOS DE AVALIACIÓN

1.-	Trazados auxiliares	1,00 puntos
	Debuxo circunferencia (precisión)	2,00 puntos
TOTAL		3,00 puntos
2.-	Trazado auxiliar	1,00 puntos
	Determinación recta intersección	2,00 puntos
TOTAL		3,00 puntos
3.-	Planta	1,00 puntos
	Alzado frontal e lateral	2,00 puntos
TOTAL		3,00 puntos
4.-	Pregunta verdadeiro ou falso	0,50 puntos
	Pregunta verdadeiro ou falso	0,50 puntos
TOTAL		1,00 puntos

A Coruña, 12 de marzo de 2024
Fdo: Óscar Castro García

PRESIDENTE DA COMISIÓN DE AVALIACIÓN