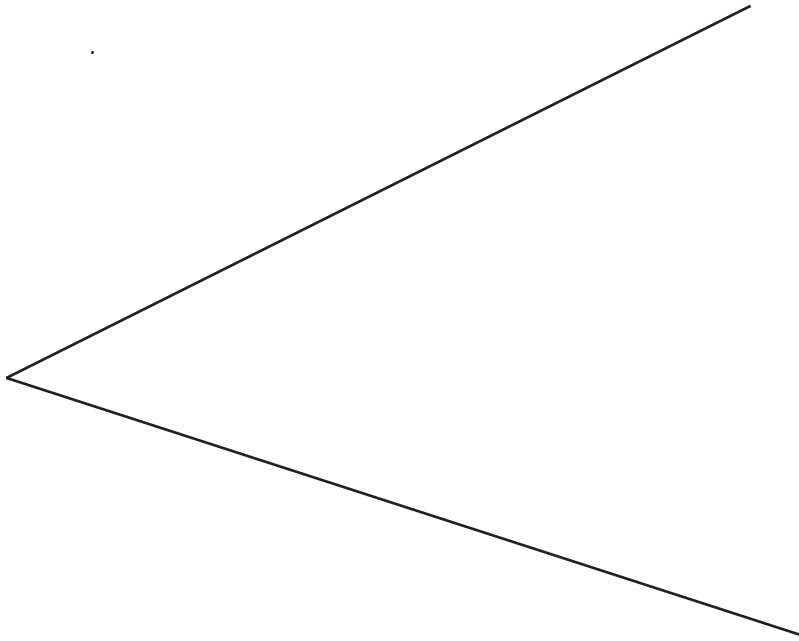


DEBUXO TÉCNICO

1.- Dibuja una circunferencia de radio 20 mm. tangente a las rectas dadas.

1.- *Debuxa unha circunferencia de raio 20 mm. tanxente ás rectas dadas.*

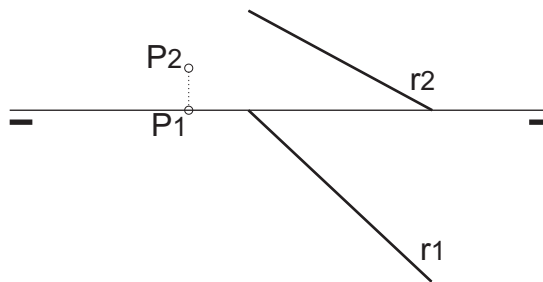
CALIFICACIÓN : 3 PUNTOS



2.- Dibuja una recta frontal del plano determinado por la recta r y el punto P.

2.- *Debuxa unha recta frontal do plano determinado pola recta r e o punto P.*

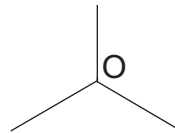
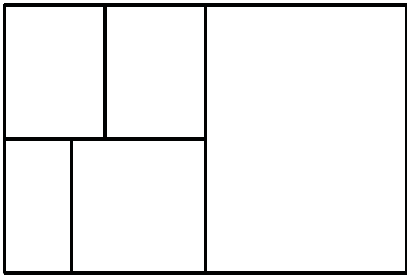
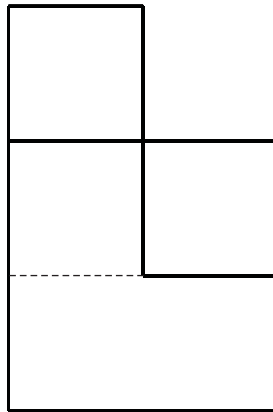
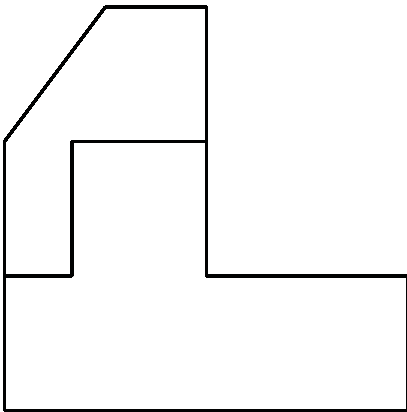
CALIFICACIÓN: 3 PUNTOS



3.- Dadas las proyecciones diédricas de la figura, dibuja una isometría sin coeficientes de reducción a escala E 1/1.

3.- Dadas as proxeccións diédricas da figura, debuxa unha isometría sen coeficientes de reducción a escala E 1/1.

CALIFICACIÓN: 3 PUNTOS



4.- Responde verdadero o falso:

- El sistema diédrico utiliza dos planos de proyección ortogonales.
- Las cotas de un dibujo se pueden expresar en distintas unidades.

4.- Responde verdadeiro ou falso:

- O sistema diédrico utiliza dous planos de proxección ortogonais.
- As cotas dun debuxo pódense expresar en distintas unidades.

CALIFICACIÓN: 1 PUNTO