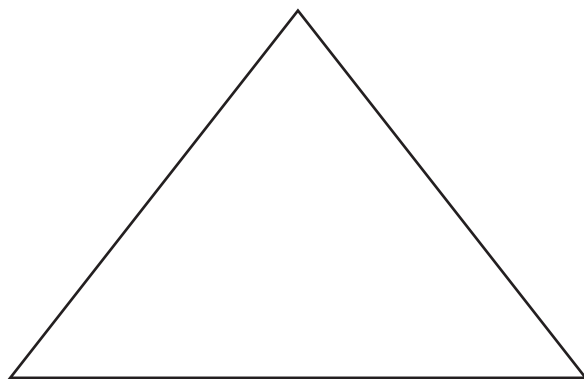


**DEBUXO TÉCNICO**

1.- Del triángulo dado, determina el incentro y el baricentro.

1.- *Do triángulo dado determina o incentro e o baricentro*

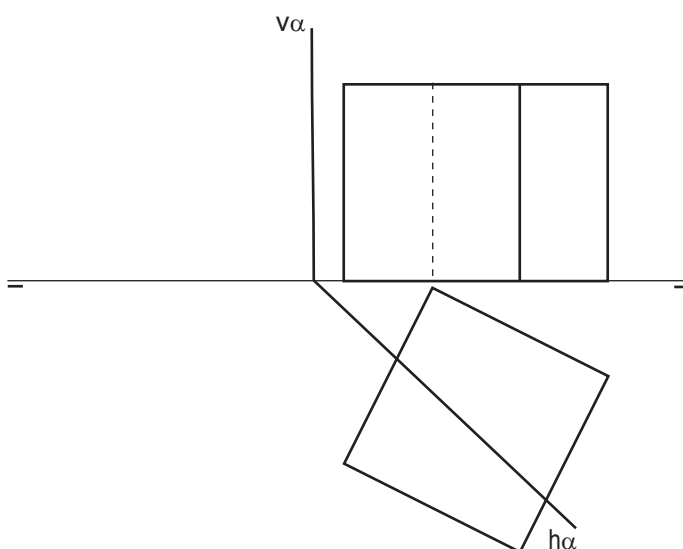
**CALIFICACIÓN : 3 PUNTOS**



2.- Dibuja la verdadera magnitud de la sección que el plano  $\alpha$  produce en el cubo dado.

2.- *Debuxa a verdadeira magnitude da seccion co plano  $\alpha$  produce no cubo dado.*

**CALIFICACIÓN: 3 PUNTOS**

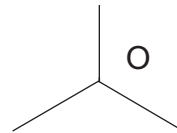
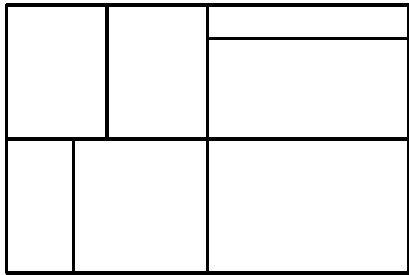
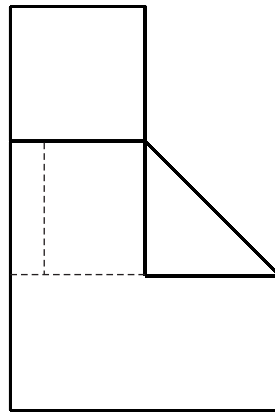
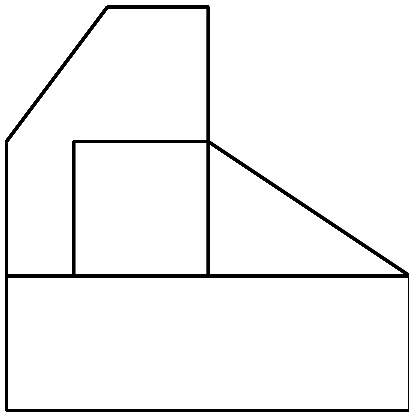


P  
E  
G  
A  
T  
I  
N  
A

3.- Dadas las proyecciones diédricas de la figura, dibuja una isometría sin coeficientes de reducción a escala E 1/1.

3.- Dadas as proxeccions diédricas da figura, debuxa unha isometría sin coeficientes de reducción a escala E 1/1.

**CALIFICACIÓN: 3 PUNTOS**



4.- Responde verdadero o falso:

- El sistema diédrico utiliza dos planos de proyección paralelos.
- Todas las cotas de un dibujo se expresarán en la misma unidad.

4.- Responde verdadeiro ou falso:

- O sistema diédrico utiliza dous planos de proxección paralelos.
- Tódalas las cotas dun debuxo expresaránse na mesma unidade.

**CALIFICACIÓN: 1 PUNTO**