

P
E
G
A
T
I
N
A

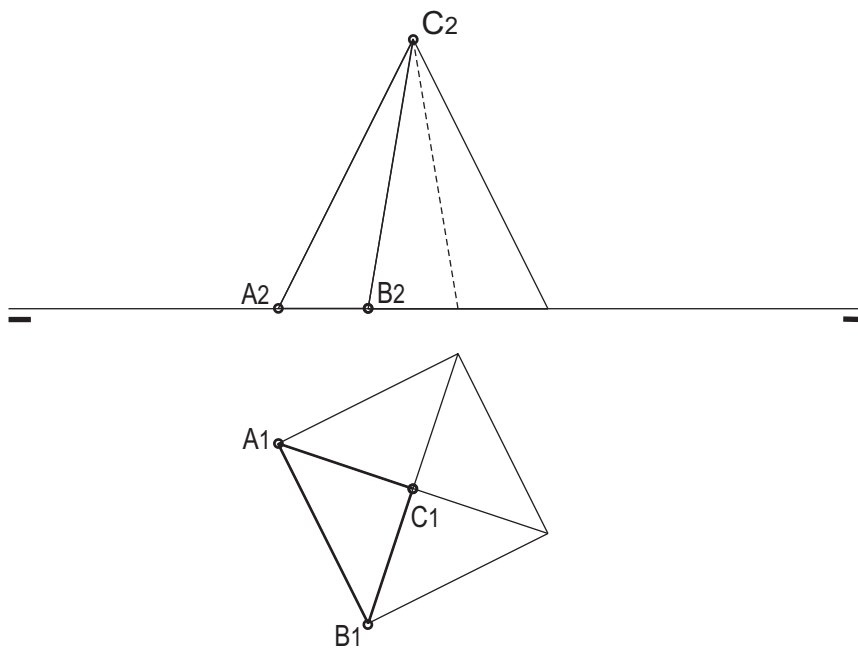
1.- Inscribe en una circunferencia de radio 40mm. un cuadrado y un octógono regulares.

1.- *Inscribe nunha circunferencia de radio 40 mm un cuadrado e un octógono regulares.*
CALIFICACIÓN : 3 PUNTOS

2.- Dibuja las trazas del plano que define la cara ABC de la pirámide.

2.- Debuxa as trazas do plano que define a cara ABC da pirámide.

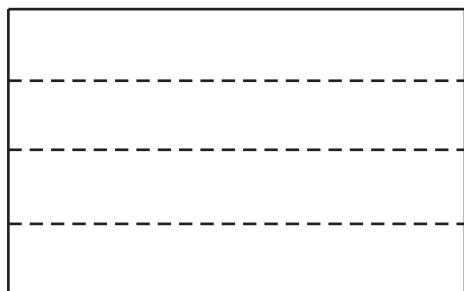
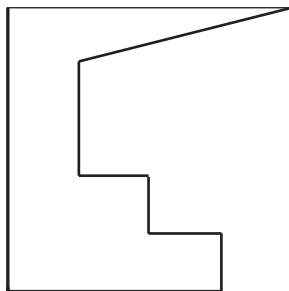

CALIFICACIÓN:3 PUNTOS



3.-Dadas las proyecciones diédricas de la figura, dibuja la isometría sin coeficientes de reducción a escala 1/1.

3.- Dadas as projeccions diédricas da figura, debuxa a isometría sin coeficientes de redución a escala 1/1.

CALIFICACIÓN: 3 PUNTOS



4.- Responde verdadero o falso:

- Ángulos complementarios son los que su suma es igual a 90° .
- Un óvalo es una curva cónica.

4.- Responde verdadeiro ou falso:

- Ángulos complementarios son os que a súa suma e igual a 90° .
- Un óvalo é unha curva cónica.

CALIFICACIÓN:1 PUNTO